





نام: نام خانوادگی: نام پدر: نام آموزشگاه:	بسمه تعالی اداره کل آموزش و پرورش استان لرستان اداره سنجش و پایش کیفیت آموزشی سؤالات امتحان هماهنگ پایه نهم (متوسطه اول) درس: مطالعات اجتماعی	تاریخ امتحان: ۱۴۰۱/۳/۲۱ زمان پاسخگویی: ۶۰ دقیقه ساعت شروع: ۱۰:۳۰ تعداد صفحه: ۴
--	---	---

ردیف	بخش اجباری: دانش آموز عزیز، با آرزوی موفقیت برای شما، لطفاً به همه سؤالات فصل هفتم تا دوازدهم پاسخ دهید.	بارم								
۱	جاهای خالی را کامل کنید. ۱. فرمان مشروطیت توسط در مرداد ۱۲۸۵ صادر شد. ۲. هدف دشمن در جنگ نرم، تغییر است. ۳. واحد بنیادین جامعه و کانون رشد و تعالی انسان است. ۴. از دیدگاه اسلام، مهمترین عامل در همسرگزینی است.	۳								
۲	درست و یا نادرست بودن عبارات های زیر را مشخص کنید. ۱. در جنگ جهانی اول، دولتمردان ایران طرفدار متفقین بودند. ۲. پس از پیروزی انقلاب اسلامی ایران، برای اولین بار انگلستان اقدام به تحریم اقتصادی ایران نمود. ۳. کلمه جمهوری، حق انتخاب و مشارکت مردم در حکومت را نشان می دهد. ۴. برای رسیدن به بهره وری باید به هر قیمتی که شده، تولید را افزایش دهیم.	۱								
۳	گزینه مناسب را علامت بزنید. ۱. بعد از کدام واقعه، رضاخان به فرماندهی کل قوا منصوب شد؟ (الف) قرارداد ۱۹۱۹ (ب) جنگ جهانی اول (ج) کودتای ۱۲۹۹ (د) جنگ جهانی دوم ۲. فرماندهی کودتای ۲۸ مرداد ۱۳۳۲ به عهده ی چه کسی بود؟ (الف) دکتر مصدق (ب) سر لشکر زاهدی (ج) آیت الله کاشانی (د) محمد رضا شاه ۳. والدین رضا از او خواسته اند "هنگام صحبت کردن شمرده و آرام صحبت کند" این مطلب کدام لایه فرهنگ را نشان می دهد؟ (الف) عقاید (ب) ارزش ها (ج) نماد (د) هنر ۴. احمد به موسیقی علاقه فراوان دارد، علاقه به موسیقی جزء کدام یک از ابعاد هویتی اوست؟ (الف) هویت جسمانی (ب) هویت فردی (ج) هویت اجتماعی (د) هویت درونی	۱								
۴	جدول زیر را با کلمات داده شده، کامل کنید. (بهره وری، صرفه جویی، جدول بودجه اقتصادی، فعالیت اقتصادی) <table border="1" style="width: 100%; text-align: center;"> <tr> <td>در آن درآمدها و هزینه های ماهانه افراد یا خانواده نوشته می شود</td> <td></td> </tr> <tr> <td>کارایی و الربحی</td> <td></td> </tr> <tr> <td>مصرف درست و به اندازه</td> <td></td> </tr> <tr> <td>استفاده از منابع طبیعی برای رفع نیازهای خود</td> <td></td> </tr> </table>	در آن درآمدها و هزینه های ماهانه افراد یا خانواده نوشته می شود		کارایی و الربحی		مصرف درست و به اندازه		استفاده از منابع طبیعی برای رفع نیازهای خود		۱
در آن درآمدها و هزینه های ماهانه افراد یا خانواده نوشته می شود										
کارایی و الربحی										
مصرف درست و به اندازه										
استفاده از منابع طبیعی برای رفع نیازهای خود										
۵	به سؤالات زیر پاسخ کوتاه دهید. ۱. منظور از اصالت خانوادگی در انتخاب همسر چیست؟ ۲. مهمترین خواسته معترضین در حرم عبدالعظیم (مهاجرت اول) چه بود؟	۱ -۱۵								

نام: نام خانوادگی: نام پدر: نام آموزشگاه	بسمه تعالی اداره کل آموزش و پرورش استان لرستان اداره سنجش و پایش کیفیت آموزشی سوالات امتحان هماهنگ پایه نهم (متوسطه اول) درس: مطالعات اجتماعی	تاریخ امتحان: ۱۴۰۱/۳/۲۱ زمان پاسخگویی: ۶۰ دقیقه ساعت شروع: ۱۰:۳۰ تعداد صفحه: ۴
---	---	---

۱	۳. چگونه می توانیم در جنگ نرم به پیروزی دست بیابیم؟	
۱	۴. به نظر شما هدف از تشکیل شورای اسلامی شهر و روستا چیست؟	
۱	هر عبارت از ستون الف را به کلمات مرتبط با آن در ستون ب با خطی به هم وصل کنید. الف ۳۱ شهریور ۱۳۵۹ اسفند ماه ۱۳۵۸ ۱۲ فروردین ۱۳۵۸ ۱۳ آبان ۱۳۵۸ ب اولین دوره انتخابات مجلس حمله عراق به ایران تسخیر سفارت آمریکا روز جمهوری اسلامی	۶
۱/۵	با توجه به حقوق شهروندی، مشخص کنید افراد زیر از کدام حقوق خود استفاده کرده اند؟ ۱. خانواده سحر، لر زبان هستند و در کنار آموزش زبان فارسی، زبان لری نیز به او می آموزند: ۲. امیرعلی منتظر است ۱۸ ساله شود تا بتواند در انتخابات شرکت کند: ۳. مدیر شرکت، آقای نظری را از کار برکنار کرده. آقای نظری به خاطر گرفتن حق خود وکیل گرفته است:	۷
۱	اصطلاحات زیر را تعریف کنید: ۱. ملت: ۲. عوارض:	۸
۱	پدر علی کشاورز است. علی سعی دارد به پدرش راهکارهایی را در جهت بهره وری سبزی در امر کشاورزی ارائه دهد. به علی کمک کنید دو مورد از این راهکارها را بیان کند؟	۹
۱	دانش آموز گرامی! به نظر شما یک حکومت چه وظایفی دارد؟ (دومورد)	۱۰
۱	تصاویر زیر کدام یک از عناصر هویت ملی (ویژگی های مشترک جامعه ایرانی) را نشان می دهد؟    	۱۱

نام: نام خانوادگی: نام پدر: نام آموزشگاه:	بسمه تعالی اداره کل آموزش و پرورش استان لرستان اداره سنجش و پایش کیفیت آموزشی سوالات امتحان هماهنگ پایه نهم (متوسطه اول) درس: مطالعات اجتماعی	تاریخ امتحان: ۱۴۰۱/۳/۲۱ زمان پاسخگویی: ۶۰ دقیقه ساعت شروع: ۱۰:۳۰ تعداد صفحه: ۴
--	---	---

بخش اختیاری: دانش آموز عزیز لطفاً، فقط دو فصل را انتخاب کنید و به سوالات همان دو فصل پاسخ دهید. ***** فقط به دو فصل زیر پاسخ دهید *****	
فصل اول	<p>۱. مکان دقیق قرار گرفتن هر پدیده بر روی کره زمین را، می نامند. (۰/۵ نمره)</p> <p>۲. قرار گرفتن هر نقطه از زمین بر روی یک مدار و نصف النهار مشخص را چه می نامند؟ (۰/۵ نمره) الف) ساعت رسمی ب) طول جغرافیایی ج) مختصات جغرافیایی د) عرض جغرافیایی</p> <p>۳. مدت زمان واقعی یک دور کامل گردش زمین به دور خورشید، است. (۰/۵ نمره)</p> <p>۴. منظور از اعتدالین چیست؟ (۱ نمره)</p>
فصل دوم	<p>۱. به پستی ها و بلندی های سطح زمین، می گویند. (۰/۵ نمره)</p> <p>۲. تشکیل ابرها و تغییرات آب و هوایی در کدام لایه اتمسفر شکل می گیرد؟ (۰/۵ نمره) الف) تروپوسفر ب) مزوسفر ج) تروپوسفر د) استراتوسفر</p> <p>۳. از یکسان نتابیدن خورشید به زمین دو منطقه آب و هوایی به وجود آمده است. (۰/۵ نمره) صحیح غلط</p> <p>۴. منظور از فلات قاره چیست؟ (۱ نمره)</p>
فصل سوم	<p>۱. تایگا، منطقه علفزارها با درختان تک و منفرد است. (۰/۵ نمره) صحیح غلط</p> <p>۲. به سرزمین هایی که میزان بارندگی سالیانه آن ها کمتر از ۵۰ میلی متر باشد، می گویند. (۰/۵ نمره)</p> <p>۳. به کدام منطقه از جهان لقب «ریه های زمین» داده شده است؟ (۰/۵ نمره) الف) جنگل های بارانی استوایی ب) قطب شمال ج) استوا د) ساوان</p> <p>۴. جنگل زدایی چگونه انجام می شود؟ (۱ نمره)</p>

نام:	بسمه تعالی	تاریخ امتحان: ۱۴۰۱/۳/۲۱
نام خانوادگی:	اداره کل آموزش و پرورش استان لرستان	زمان پاسخگویی: ۶۰ دقیقه
نام پدر:	اداره سنجش و پایش کیفیت آموزشی	ساعت شروع: ۱۰:۳۰
نام آموزشگاه:	سوالات امتحان هماهنگ پایه نهم (متوسطه اول)	تعداد صفحه: ۴
	درس: مطالعات اجتماعی	

۲/۵	فصل چهارم	<p>۱. اگر درصد رشد جمعیت به کمتر از صفر برسد، به آن می گویند. (۵/۰ نمره)</p> <p>۲. کدام یک از عوامل زیر از علل خارجی نابرابری جهانی است؟ (۵/۰ نمره)</p> <p>الف) حکومت ستمگر (ب) اشغال نظامی (ج) فرهنگ و باور غلط (د) نبود وحدت</p> <p>۳. میزان امید به زندگی در یک جامعه، نشان دهنده سواد و آموزش در آن جامعه است. (۵/۰ نمره) صحیح غلط</p> <p>۴. رشد منفی جمعیت چیست؟ (۱ نمره)</p>
۲/۵	فصل پنجم	<p>۱. در حکومت صفوی بعد از شاه، وزیر بزرگ قرار داشت که به او می گفتند. (۵/۰ نمره)</p> <p>۲. شاه تهماسب صفوی، پایتخت را از تبریز به قزوین انتقال داد. (۵/۰ نمره) صحیح غلط</p> <p>۳. قرون جدید در اروپا همزمان با به قدرت رسیدن کدام حکومت در ایران بود؟ (۵/۰ نمره)</p> <p>الف) قاجار (ب) زندیه (ج) صفویه (د) افشاریه</p> <p>۴. شهرنشینان دوره صفوی بیشتر چه کسانی بودند؟ (۱ نمره)</p>
۲/۵	فصل ششم	<p>۱. از نتایج آشنایی ایرانیان با تمدن اروپایی در دوره قاجار، ایجاد مدرسه های جدید بود. (۵/۰ نمره) صحیح غلط</p> <p>۲. گسترده ترین جنبش اجتماعی در اعتراض به واگذاری امتیاز به بیگانگان بود. (۵/۰ نمره)</p> <p>۳. من نخستین کسی بودم که متوجه شدم باید حکومت قاجار تغییراتی در کشور ایجاد کند؟ (۵/۰ نمره)</p> <p>الف) امیرکبیر (ب) عباس میرزا (ج) میرزا حسن رشدیه (د) قائم مقام فراهانی</p> <p>۴. چرا نادر به هندوستان لشکر کشید؟ (۱ نمره)</p>

نمره با حروف:

نمره با عدد:

رنگین کمان پاداش کسانی است که تا آخرین لحظه زیر باران می مانند.

موفق باشید.

۱۱ (۱) مظفرالدین شاه ۲- تغییر ذهن و اراده مردم

(۳) خانواده ۴- ایمان و اعتقادات دینی فرد

(۲) ۱۱ غ ۱۲ غ ۱۳ ص ۱۴ غ

(۳)

۱۱ ج ۱۲ ب ۱۳ د ۱۴ پ

(۴)

۱- جدول بورجه اقتصادی ۲- بهره‌وری
۳- صرفه جویی ۴- فعالیت اقتصادی

(۵)

۱- یعنی فردی که به عنوان همسر انتخاب می‌شود در خانواده‌ای صالح و اهل ایمان و تعویب و ریش یافته باشد.

۲- ① تشکیل عوالت خانه در تمام شهرها ② عمل به قانون اسلامی

۳- ① شناخت ارزش‌های انسانی ② تعویب هویت اسلامی- ایرانی

۴- سوره‌های اسلامی با هدف همکاری مردم برای بسپرد برنامه‌های اجتماعی،

اقتصادی، فرهنگی و عمرانی با توجه به شرایط و مقتضیات هر منطقه از سوره‌ها استخراج می‌شوند.

۱۶ اولین دوره انتخابات مجلس ← اسفند ماه ۱۳۵۸

حمله عراق به ایران ← ۳۱ شهریور ۱۳۵۹

تسخیر سفارت آمریکا ← ۱۳ آبان ۱۳۵۸

روز جمهوری اسلامی ← ۱۲ فروردین ۱۳۵۸

۱۷

۱- حق فرهنگی ۲- حق مشارکت سیاسی ۳- حق برخورداری از ^{عدالت} قضایی

۱۸

۱- جمعیتی است که در قلمرو یک سرزمین مشخص مسکن شده و دارای استراکات و

تاریخی، زبانی، مذهبی و عرفان‌های مشترک است.

۲- مبلغی است که شهروندان در مقابل دریافت خدماتی از دستگاه اداری و دولتی

به آن‌ها می‌پردازند.

۱۹

① مصرف به اندازه لزوم و کوردهای سیاسی

② استفاده از ابزارها و روش‌ها و فناوری‌های مختلف که آسیب کمتری به

محیط زیست می‌رسانند

③ یادگیری سوره‌های جدید کسوف و زلزله

(۱۰) ۱- اجرای قوانین ۲- برقراری نظم و امنیت

(۱۱) ① ما تاریخ کهن و میراث فرهنگی غنی داریم

② زبان مشترک ما فارسی است

③ ما مسلمانیم

④ مادر سرزمین ایران زندگی می کنیم

جزوه سیپی

فصل ۱

۱) موقتاً مکانی ۱۲ ج ۱۳ ۲۵ ۳ روز

۲) یعنی اول بهار و اول پاییز طول روز و شب برابر می شود به این روزها

اعتدالین می گویند.

فصل ۲

۱) ماهواره ۲ الف ۳۰ غ

۳) در جاهایی که امتیاز نوسانها با خستگی تماس دارند ، اغلب آوازه ای کم عمق با
فرکانس کمتر از ۲۰۰ هرتز (۲۰۰) که بر آن فلات نامیده می شود.

AFAGH

فصل ۳

۱ غ (۲) بیابان (۳) الف

۴ از بین بردن کامل جنگلها در یک ناحیه - برای این کار جنگلها را میسوزانند ،

درختها را با آره برون می برند و زمین ها را با هموار ساز از ارضای عالی می شود .

فصل ۴

۱ رسد متقی (۲) ب (۳) غ

۴ اگر در رسد جمعیت به کمتر از صفر برسد به آن رسد متقون گویند .

فصل ۵

۱ اعتقاد الدوله (۲) ص (۳) ح

۴ سر نشینان بیشتر مقامات حکومتی و نظامی ، روحانیون ، پادشاهان ، پسران و ران و صنعتگران بودند .

فصل ۶

۱ ص (۲) نضت تنباکو (۳) ب

۴ نادر شاه در تعقیب گروه از افغان های سرریزی که به هندوستان گریخته

بودند به آن کشور لشکر کشید .